



### Maart 2026

ma	di	wo	do	vr	za	zo
						1
2	3	4	5	6	7	8
9	10	11	12	13	14	15
16	17	18	19	20	21	22
23	24	25	26	27	28	29
30	31					

Datum	Op die datum
19 maart	Suikerfeest
20 maart	begin van de lente
29 maart	zomertijd

31	Suikerfeest	zomertijd	april	2026
20	maand	lente	maart	vooruit

Het is het jaar \_\_\_\_\_.

Na februari komt \_\_\_\_\_.

Het is de derde \_\_\_\_\_ van het jaar.

De maand heeft \_\_\_\_\_ dagen.

Op 19 maart is het \_\_\_\_\_.

In maart begint het voorjaar. Een ander woord is \_\_\_\_\_.

Het woord lente betekent: het lengen der dagen (de dagen worden langer).

Lente begint op vrijdag \_\_\_\_\_ maart.

Op 29 maart begint de \_\_\_\_\_.

Deze laatste zondag gaat de klok een uur \_\_\_\_\_.

Na maart komt de maand \_\_\_\_\_.

### Zomertijd en wintertijd in 2026

<p>De zomertijd begint op 29 maart. De klok gaat een uur vooruit.</p> 	<p>De wintertijd begint op 25 oktober. De klok gaat een uur achteruit.</p> 
---	--



**Maak een schema van zomertijd en wintertijd.**

Het heet	_____	_____
Het begint op (datum)	_____	_____
De klok gaat een uur	_____	_____




**lente**

**Ten minste houdbaar tot en met**



Ten minste houdbaar tot en met:  
zie deksel, mits gekoeld bewaard (max. 7°C).  
Kijk, ruik en proef na deze datum.  
Na openen beperkt houdbaar.



**Schrijf de datum voluit.**

<b>dag en maand</b>
14-03
<u>14 maart</u>
Op een pak eieren staat TENMINSTE HOUDBAAR TOT <b>18.05</b> WWW.CHEK-JE-EI.NL
TENMINSTE HOUDBAAR TOT <b>19/04</b>
11.06

<b>dag maand jaar</b>
12/04/2026
20.06.26
25-03-2026    BH4 BB1390V        05:40
02-05-24

Ten minste houdbaar tot en met: zie bovenzijde,  
mits gekoeld bewaard (max. 7°C).  
Kijk, ruik en proef na deze datum.  
Na openen beperkt houdbaar.

06/05



Mits koel bewaard = zet op het aanrecht.  waar  niet waar

Hoe koud bewaar je het product? \_\_\_\_\_

Wat betekent 06/05?  6 mei  5 juni

Een pak is houdbaar tot 12 mei 2026.  
Wat staat er op het pak?  05-12-2026  12-05-2026



**Klimaat**

Het klimaat gaat over een lange tijd, vaak 30 jaar.  
Waar wij wonen is het een zeeklimaat.  
De zomer is niet zo heet.  
De winter is niet zo koud.



Het klimaat

- gaat over een week.
- gaat over vele jaren

Het weer

- gaat over een paar dagen.
- gaat over een lange periode.

Welke vraag kan iemand stellen?

- Welk weer is het vandaag?
- Welk klimaat is het vandaag?

Aan het eind van de dag verwachten we onweer.

- het weer
- het klimaat



**Waar past het bij: het weer of het klimaat?**

de gemiddelde temperatuur van 1990 tot 2020

Het gaat komende week veel regenen.

In de poolgebieden is het het koudst.

Hier is een zeeklimaat.

Er was een flinke storm vorige week.

In mei is het gemiddeld 13,4 °C.

Begin mei wordt koud weer verwacht.

In ons klimaat zijn de winters niet heel koud.

het weer	het klimaat



### Afvalkalender mei

mei		
do	7	Groente, fruit en tuinafval
do	14	Plastic, metalen en drankkartons
do	21	Groente, fruit en tuinafval
do	28	Plastic, metalen en drankkartons
di	26	Papier en karton

ma	di	wo	do	vr	za	zo
				1	2	3
4	5	6	7	8	9	10
11	12	13	14	15	16	17
18	19	20	21	22	23	24
25	26	27	28	29	30	31

De afkorting voor Groente, fruit en tuinafval is  gft  pmd

De afkorting voor Plastic, metalen en drankkartons is  gft  pmd

Kleur de gft-ophaaldagen in de maand.

Kleur de pmd-ophaaldagen in de maand

Kleur de papier ophaaldag.

Ophaaldag van gft is altijd op een \_\_\_\_\_ dag

Ophaaldata van pmd \_\_\_\_/\_\_\_\_/\_\_\_\_ en \_\_\_\_/\_\_\_\_/\_\_\_\_

Ophaaldag van papier en karton  de eerste dinsdag van de maand  de laatste dinsdag van de maand

	wel	niet
papier en karton wel of niet?    	kranten enveloppen kartonnen dozen folders & tijdschriften	pizzadozen (met vetvlekken) kartonnen koffiebekers
	<input type="checkbox"/>	<input type="checkbox"/>
	<input type="checkbox"/>	<input type="checkbox"/>
	<input type="checkbox"/>	<input type="checkbox"/>
	<input type="checkbox"/>	<input type="checkbox"/>











### Een weerbericht voor een dag in juni

Het wordt vandaag overal zonnig en droog.  
Alleen in het westen komt wat sluierbewolking.

De maximumtemperatuur ligt rond 25°C.  
De zuidwestenwind is matig, 3 tot 4 Bft.

#### Wat betekent het?

zonnig		
sluierbewolking		
de hoogste temperatuur van de dag	maximumtemperatuur	temperatuur om 12 uur
maximumtemperatuur	25°C	21°C
wind uit het zuidwesten		
Bft	windrichting	windkracht
3 tot 4 Bft	matige wind	bries
kleding die hierbij past		

#### Wat past bij dit weer?

buiten

wisselvallig

zuidoosten wind

zuidwesten wind

koud

warm







