



Rekenen met geld



Graag willen we je laten kennismaken met ons materiaal over geld.

We kiezen voor werkbladen tot 10 hele euro met:



Komend document is een kleine selectie van wat je op de site kunt vinden.

Elk onderdeel begint met de inhoudsopgave van het sitedocument.

Een document start vaak met *uitleg*. In de uitleg vind je suggesties om vanuit handelend opstarten te komen tot het maken van werkbladen.

kleine stappen
rustige lay-out
visueel
oefenen en herhalen

Veel plezier.
Miriam en Erna








geld

Uit het bestand

Rekenen

Winkeltje – boodschappen doen

Inhoud van het bestand Winkeltje – boodschappen doen

| handeling | | pagina | |
|-------------------------------------------------------------------------------------|-------------------------------|------------|---|
| | Uitleg gebruik document | 2 | |
|  | Groene kaartjes | voorwerpen | 3 |
|  | Bruine kaartjes | supermarkt | 6 |
|  | Kaartjes bedrag en euromunten | | 9 |



Boodschappen doen - winkeltje

Doel

- Oefent een meervoudige opdracht:
 - *Pak de gitaar en de zonnebril.*
 - *Pak eerst de gitaar, dan de zonnebril.*
- Controleert 'gemaakt werk';
- Doet een spel in een spelhoek;
- Maakt kennis met begrippen als 'boodschappenlijst', 'boodschappen doen', 'naar de winkel gaan'.

Wat heb je nodig?

- productkaartjes;
- boodschappenlijstje;
- potlood.

Wat doe je?

Leg de productkaartjes op een tafel. Dat is de winkel. Je leerling krijgt het boodschappenlijstje mee en loopt naar de winkel.



Hij pakt de juiste kaartjes en loopt terug.

Daarna check je samen of de lijst compleet is.

Variatie

Dit spel kan tijdens begeleiding, maar je kunt het ook door twee kinderen laten uitvoeren in de huishoek of een winkelhoek.

Je geeft hen meteen handvatten om een bepaald spel te spelen.

Mocht je leerling eraan toe zijn:

- Kijk op het kaartje en onthoud wat je moet 'kopen';
- 'Luister wat je gaat halen: helm en zonnebril'.
- Leg prijzen neer bij de kaarten in de winkel met € 1, € 2 en € 3. Koop iets van 3 euro.



De kaartjes met het bedrag knip je uit en vouw je op de grijze middenlijn. Plaats het bedrag bij de voorwerpen.

Bedenk dat een bedrag met euroteken een volgende stap is. Het is meer informatie om te verwerken.

Je vindt daarom ook kaartjes zonder euroteken.



geld





geld

ik wil graag:



ik wil graag:



ik wil graag:



ik wil graag:



ik wil graag:



ik wil graag:



ik wil graag:



ik wil graag:



ik wil graag:





Uit het bestand
Rekenen met geld
tot 5 euro – per blad



Inhoud van het bestand Rekenen met geld tot 5 euro – per blad

| handeling | | pagina |
|-------------------------------------------------------------------------------------|-------------------------------------------------------------------------------------|--------|
| | Uitleg | 2 |
|  | Maak de waarde visueel | 3 |
|  | | 4 |
|  | | 6 |
|  | | 17 |
| |  | |



Tot 5 euro

Doel

- Maakt een bedrag tot 5 euro met munt van 1 en 2 euro en briefje van 5.
- Weet dat een munt van 2 euro de waarde heeft van 2 munten van 1 euro.
- Controleert eigen werk.

Wat heb je nodig?

Muntgeld en biljet van 5 ter ondersteuning van de werkbladen.

Kijk welke manier van vragen je leerling aanspreekt.

Houd er rekening mee dat het voor veel kinderen moeilijker is om het bedrag te betalen dan om uit te rekenen hoeveel geld er op tafel ligt.

Het omcirkelen van de muntstukken die je nodig hebt voor het betalen van een bedrag op een werkblad is nog een stap moeilijker.

Wat doe je?

Voordat je met de werkbladen begint, ga je aan de slag met het geld.

Laat je leerling iets kopen.

Praat over de prijs. Wat is meer of minder? Wat is evenveel?

Maak visueel zoals onderstaand figuur (zie pagina 3).

2 euro =



Daarna ga je aan de slag met de werkbladen.

Maak er een paar samen. Dan zie je wat je leerling begrijpt en wat lastig is.

De munt van 2 = 2 x de munt van 1 is pittige materie.

Gebruik de munten en het biljet om handelend bezig te zijn.

Op enkele bladen staat een controleeropdracht. Leer je leerling eigen werk na te lopen. Check of je leerling de waarde van de munten goed berekent.

Variatie

- Gebruik dit document als begeleiding om leerstof uit te leggen.
- Maak een combinatie met het leggen van geld en het werkblad.
- Gebruik dit document als 'toets' om te kijken wat je leerling beheerst.
- Laat enkele bladen zelfstandig herhalen, zodat de stof bekend blijft.



geld

| | |
|-----------|-----------|
| ○ ○ ○ ○ ○ | ○ ○ ○ ○ ○ |
| ○ ○ ○ ○ ○ | ○ ○ ○ ○ ○ |
| ○ ○ ○ ○ ○ | ○ ○ ○ ○ ○ |
| ○ ○ ○ ○ ○ | ○ ○ ○ ○ ○ |
| ○ ○ ○ ○ ○ | ○ ○ ○ ○ ○ |
| ○ ○ ○ ○ ○ | ○ ○ ○ ○ ○ |



geld



Hoeveel is het waard?



○ ○ ○ ○ ○



○ ○ ○ ○ ○



○ ○ ○ ○ ○



○ ○ ○ ○ ○



○ ○ ○ ○ ○



geld



Hoeveel?



2

3

_____ euro



1

2

_____ euro



3

4

_____ euro



2

3

_____ euro



4

5

_____ euro



4

5

_____ euro



2

3

_____ euro



2

3

_____ euro



2

3

_____ euro



3

4










_____ euro



Uit het bestand
Rekenen met geld
tot 10 euro – per blad



Inhoud van het bestand Rekenen met geld tot 10 euro – per blad

| handeling | | pagina |
|------------------------------------------------------------------------------------|--------------------------------------------------------------------------------------|--------|
| | Uitleg | 2 |
|  |  | 3 |
|  |  | 8 |
|  |  | 11 |
|  |  | 17 |
| |  | 23 |



geld



Hoe betaal je?



3 euro



5 euro



7 euro



4 euro



8 euro





geld




Zoek evenveel.



 •

___ euro

 •

___ euro

 •


___ euro

 •


___ euro

 •


___ euro

 •

___ euro

 •

___ euro

 •

___ euro



geld



Maak het waar.



5 euro



2 euro



9 euro



1 euro



7 euro
















Uit het bestand
Rekenen met geld
tot 5 en tot 10 euro - variatie




Inhoud van het bestand Rekenen met geld tot 5 en 10 euro – variatie

| handeling | | pagina |
|-----------------------------------------------------------------------------------------------------------------------------------------------------------------------------------------------------------------------------------------------------------------------------------------------------------------------------------------|------------------------------------------------------------------------------------------------------------------------------------------------------------------------------------------------------------------------------------------------------------------------------------------------------------------------------------------------------------|--------|
|     | tot 5 euro    | 2 |
| | tot 10 euro     | 9 |



geld



Hoeveel?



_____ euro



_____ euro



_____ euro



_____ euro



Hoe betaal je?

| | |
|---------------------------------------------------------------------------------------------------|-----------------------------------------------------------------------------------------------------|
| <p>5 euro</p>  | <p>7 euro</p>  |
| <p>4 euro</p>  | <p>6 euro</p>  |



Maak de som.

5 + 1 = _____

2 + 2 + 2 = _____

5 + 2 = _____

2 + 2 + 1 = _____

2 + 2 = _____


5 + 1 + 1 = _____

2 + 1 = _____



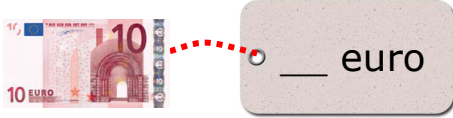

5 + 2 + 1 = _____



geld



Hoeveel?



Hoeveel euro is het?

| | |
|----------------|----------------|
| _____ euro | _____ euro |
| _____ euro | _____ euro |
| _____ euro | _____ euro |
| _____ euro | _____ euro |



Maak de som.

$5 + 2 + 1 = \underline{\quad}$

$2 + 2 + 2 + 2 = \underline{\quad}$

$2 + 2 + 1 = \underline{\quad}$

$5 + 1 + 1 + 1 = \underline{\quad}$

$2 + 1 + 1 = \underline{\quad}$


$5 + 2 + 1 + 1 = \underline{\quad}$



geld




Hoe betaal je?

 2 euro




 5 euro




 4 euro



 6 euro



 8 euro



Hoeveel euro is het?



_____ euro



_____ euro




_____ euro



_____ euro



geld



Teken 8 euro . Steeds anders.

8 euro

| | | | |
|-------------------------------------------------------------------------------------------------------------------------------------------------------------------------------------------------------|--|--|--|
| <div data-bbox="236 495 336 555" data-label="Text"><p>5</p></div> <div data-bbox="368 506 440 577" data-label="Text"><p>2</p></div> <div data-bbox="284 595 355 667" data-label="Text"><p>1</p></div> | | | |
|-------------------------------------------------------------------------------------------------------------------------------------------------------------------------------------------------------|--|--|--|






Betaal.

| | |
|-----------------------------------------------------------------------------------------------------------------------------------------------------------------------------------------------------------------------------------------------------------------|----------------------------------------------------------------------------------------------------------------------------------------------------------------------------------------------------------------------------------------------------------------------|
| <div data-bbox="276 1003 459 1220" data-label="Image"></div> <div data-bbox="507 1021 722 1137" data-label="Text"><p>7 euro</p></div> <div data-bbox="392 1256 592 1346" data-label="Image"></div> <div data-bbox="344 1379 632 1476" data-label="Image"></div> | <div data-bbox="895 994 1050 1220" data-label="Image"></div> <div data-bbox="1114 1021 1329 1137" data-label="Text"><p>10 euro</p></div> <div data-bbox="922 1234 1278 1335" data-label="Image"></div> <div data-bbox="954 1368 1241 1458" data-label="Image"></div> |
| <div data-bbox="256 1514 472 1727" data-label="Image"></div> <div data-bbox="507 1532 722 1648" data-label="Text"><p>6 euro</p></div> <div data-bbox="379 1749 603 1850" data-label="Image"></div> <div data-bbox="323 1883 659 1973" data-label="Image"></div> | <div data-bbox="906 1509 1042 1711" data-label="Image"></div> <div data-bbox="1114 1532 1329 1648" data-label="Text"><p>8 euro</p></div> <div data-bbox="922 1749 1278 1850" data-label="Image"></div> <div data-bbox="946 1883 1257 1973" data-label="Image"></div> |



Uit het bestand
Rekenen met geld
kaarten met bedragen, opdrachten en bordspel dobbelknobbel

Inhoud van het bestand kaarten met bedragen, opdrachten en bordspel dobbelknobbel

| handeling | | pagina |
|-------------------------------------------------------------------------------------------------------------------------------------------------------------------------|------------------------------------------------------------------|--------|
|  | Geldkaarten, opdrachtkaarten en verhaalsommen t/m 10 euro | 2 |
| | Geldkaarten, opdrachtkaarten en verhaalsommen t/m 20 euro | 13 |
| | Geldkaarten, opdrachtkaarten en verhaalsommen t/m 50 euro | 20 |
| | Geldkaarten, opdrachtkaarten en verhaalsommen t/m 100 euro | 24 |
| | Geldkaarten, opdrachtkaarten en verhaalsommen euro en eurocenten | 30 |
|   | Dobbelknobbel tot 10, 20, 50 en 100 euro | 36 |



geld



r - geld - kaart en spel



r - geld - kaart en spel



r - geld - kaart en spel



r - geld - kaart en spel



r - geld - kaart en spel



r - geld - kaart en spel



r - geld - kaart en spel



r - geld - kaart en spel



r - geld - kaart en spel




geld

Ik moet 2 euro betalen.
Ik kan deze munt geven.



r - geld - kaart en spel

Ik moet 2 euro betalen.
Ik kan deze munten geven.



r - geld - kaart en spel



is evenveel waard als



r - geld - kaart en spel



is evenveel als



r - geld - kaart en spel



Ik betaal:



r - geld - kaart en spel

Maak het waar:





r - geld - kaart en spel

Maak het waar:





r - geld - kaart en spel

Maak het waar:





r - geld - kaart en spel



Ik betaal:



r - geld - kaart en spel



geld

Femke is jarig.
Ze krijgt geld van haar oom en tante.
3 euro en nog 2 euro.

Hoeveel geld heeft ze?

$$\text{2 euro} + \text{1 euro} + \text{2 euro} = \text{___ euro}$$

r - geld - kaart en spel

Bart verkoopt 4 koekjes.
Ze kosten 2 euro per stuk.



Hoeveel geld heeft hij?

$$2 + 2 + 2 + 2 = \text{___ euro}$$

r - geld - kaart en spel

Lisa doet klusjes.
Ze wast de auto voor 3 euro
en veegt de stoep voor 1 euro.

Hoeveel geld verdient ze?

$$3 + 1 = \text{___ euro}$$

r - geld - kaart en spel

Loes laat 3 keer de hond uit voor de buurvrouw.
Ze krijgt 3 euro per keer.



Hoeveel geld verdient ze?



r - geld - kaart en spel