



Wereldwijs

Wonen

Stroom, gas en water

Inhoud

handeling

pagina



Stroom, gas en water

2

Mogelijke verwerking:



Deel in

5



Tabel

6



Stroom, gas en water

Stroom, gas en water zijn niet gratis.
Je moet ervoor betalen.
Wat je verbruikt, wordt geteld.
Dat gebeurt door een **meter**.
Zo kun je precies zien wat je moet betalen.



Schrijf de zin over.

Stroom is niet gratis.

Wat je verbruikt, moet je betalen.

Dat is ook zo met gas.

Ook water moet je betalen.

De meter ziet hoeveel je verbruikt.



Waar of niet waar ?

Stroom is gratis.

waar niet waar

Water moet je betalen.

waar niet waar

Gas krijg je gratis.

waar niet waar

Wat je verbruikt, hoef je niet te betalen.

waar niet waar

Een meter ziet hoeveel je verbruikt.

waar niet waar



De meters

Een ander woord voor **stroom** is **elektriciteit**.
Alle apparaten met een stekker gebruiken stroom.
Stroom is niet gratis.
Deze meter telt precies hoeveel stroom je gebruikt.



Dit is een gasmeter.
Die ziet hoeveel gas je gebruikt in huis.
Als je veel gas verbruikt,
moet je veel betalen.

Ook is er een meter voor het water.
Het water komt in een dikke buis het huis binnen.
Al het water dat je nodig hebt,
telt de meter.
Dat water moet je dan betalen.



Waar of niet waar ?



Dit is een gasmeter.
Die meet hoeveel stroom je gebruikt.

- waar
 niet waar



Dit is een watermeter.
Die telt hoeveel water je verbruikt.

- waar
 niet waar



Dit is een **stroom**meter.
Een ander woord is een **elektriciteits**meter.

- waar
 niet waar



verschillende meters



Schrijf de zinnen bij het goede plaatje.

Dit is een **stroommeter**.

Je ziet hoeveel stroom je gebruikt.

Dit is een **watermeter**.

Die telt hoeveel water je gebruikt.

Dit is een **gasmeter**.

Die meet het gas dat je verbruikt.



Gebruik je minder stroom, gas en water?
Dan hoef je niet zoveel te betalen.
Wees dus zuinig met water, gas en stroom!








verschillende meters








Waar hoort het bij?
Let op: soms gebruikt een apparaat stroom en water!


tuinsproeier	gasfornuis	televisie	lamp
vaatwasser	wasmachine	gashaard	kraan

 Deze apparaten hebben een stekker.
Zij gebruiken **stroom**.

	_____		_____
	_____		_____

 Deze dingen gebruiken **water**.

	_____		_____
	_____		_____

 Deze apparaten gebruiken **gas**.

	_____		_____
---	-------	---	-------



verschillende meters



Vul in: ja of nee.



Kleur het ja-vak groen en het nee-vak rood.


Kijk naar het voorbeeld.

De vakjes bij de wasmachine zijn al ingevuld.

	stroom	gas	water
	ja	nee	ja



verschillende meters



Waar hoort het bij?

Let op: soms gebruikt een apparaat stroom en water!

wasmachine	gasfornuis	kraan	gashaard
vaatwasser	lamp	televisie	tuinsproeier



gebruikt alleen water



gebruikt alleen gas



gebruikt alleen stroom



en

gebruikt water en stroom
